











# Counting Change

Find the total value of the coins below.

	<p style="text-align: right;"><b>Total</b></p> <p style="text-align: center;">_____</p>
	<p style="text-align: right;"><b>Total</b></p> <p style="text-align: center;">_____</p>
	<p style="text-align: right;"><b>Total</b></p> <p style="text-align: center;">_____</p>
	<p style="text-align: right;"><b>Total</b></p> <p style="text-align: center;">_____</p>
	<p style="text-align: right;"><b>Total</b></p> <p style="text-align: center;">_____</p>

# Counting Change

Find the total value of the coins below.

	<p style="text-align: right;"><b>Total</b></p> <p style="text-align: right;">_____</p>
	<p style="text-align: right;"><b>Total</b></p> <p style="text-align: right;">_____</p>
	<p style="text-align: right;"><b>Total</b></p> <p style="text-align: right;">_____</p>
	<p style="text-align: right;"><b>Total</b></p> <p style="text-align: right;">_____</p>
	<p style="text-align: right;"><b>Total</b></p> <p style="text-align: right;">_____</p>